**1. razred OŠ**


IME IN PRIIMEK _____

RAZRED _____ MENTOR _____

1	2	3	4	5	6	7

ZA REŠEVANJE IMAŠ NA VOLJO 45 MINUT. ODGOVORE ZAPIŠI V GORNJO PREGLEDNICO. ZA VSAK PRAVILEN ODGOVOR DOBIŠ 4 TOČKE. ZA VSAK NEPRAVILEN ODGOVOR TI ODŠTEJEMO 1 TOČKO. ČE PA PUSTIŠ POLJE V PREGLEDNICI PRAZNO, DOBIŠ 0 TOČK.

1. KAJA JE NA LIST PAPIRJA NAPISALA NEKAJ ŠTEVIL (GLEJ SLIKO). KATERIH ŠTEVIL, MANJŠIH OD 10, KAJA NI NAPISALA?



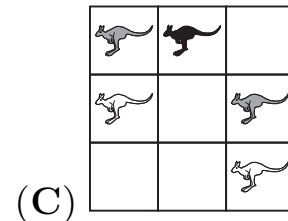
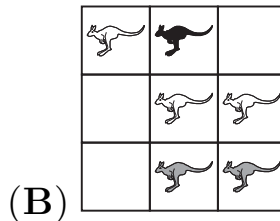



- (A) 2 IN 0 (B) 4 IN 8 (C) 6 IN 9 (D) 3 IN 5 (E) 7 IN 1

2. V RAZREDU JE NA KNJIŽNI POLICI 12 KNJIG. PO KONCU POUKA SO V RAZREDU OSTALI ŠE 4 OTROCI. VSAK IZMED NJIH BO VZEL 1 KNJIGO. KOLIKO KNJIG BO OSTALO NA KNJIŽNI POLICI?


- (A) 0 (B) 2 (C) 4 (D) 8 (E) 12

3. NA SLIKAH SO BELI, SIVI IN ČRNI KENGURUJI. NA KATERI SLIKI JE ŠTEVILO ČRNIH KENGURUJEV VEČJE OD ŠTEVILA BELIH KENGURUJEV?

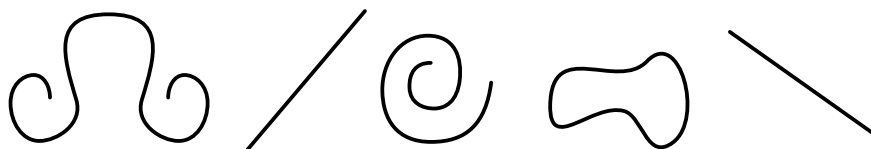


4. JANEZ JE NA VRTU S KVADRATNIMI PLOŠČICAMI OBLIKOVAL POT (GLEJ SLIKO). NAJMANJ KOLIKO TAKIH KVADRATNIH PLOŠČIC POTREBUJE JANEZ, DA Z NJIMI PREKRIJE OBMOČJE ZNOTRAJ POTI?

- (A) 5 (B) 6 (C) 7 (D) 8 (E) 9



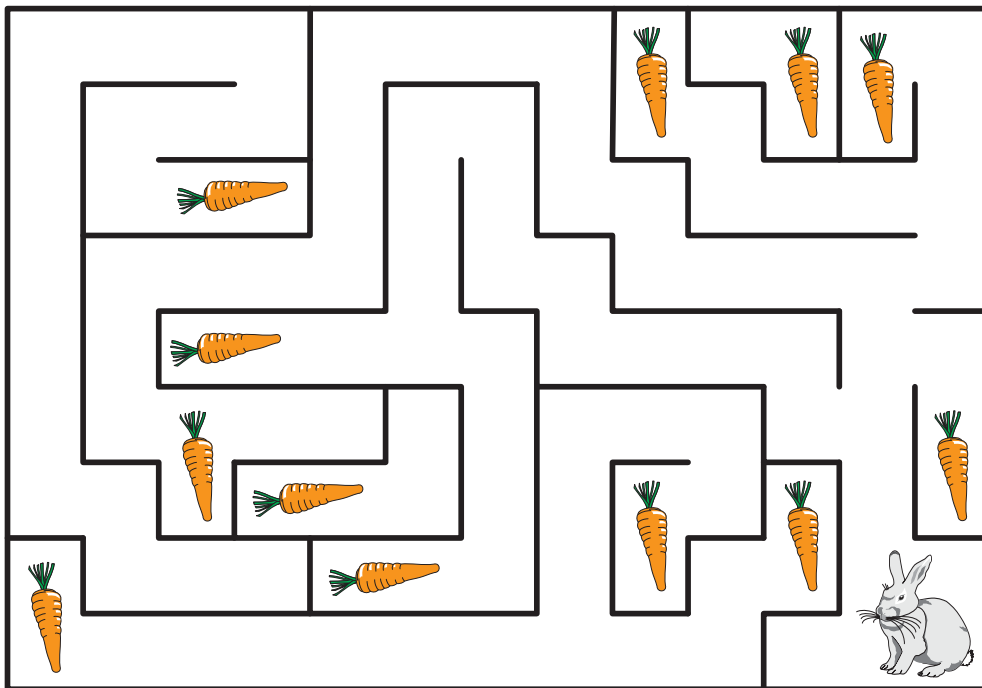
5. UČITELJICA JE NAROČILA, DA VSAK UČENEC NARIŠE 3 RAVNE ČRTE, 2 NESKLENJENI KRIVI ČRTI IN 2 SKLENJENI KRIVI ČRTI. ENEJ JE NARISAL:



KAJ BI MORAL ENEJ ŠE NARISATI?

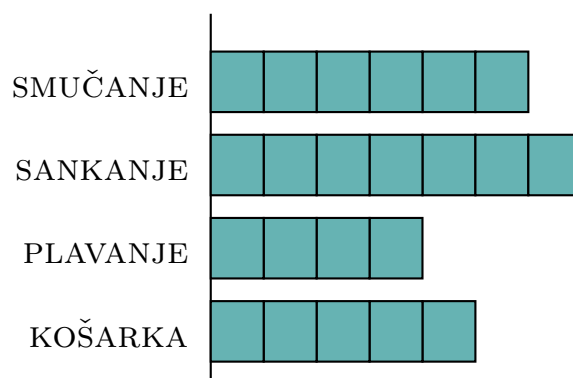
- (A) 1 RAVNO IN 1 NESKLENJENO KRIVO ČRTO
 (B) 2 RAVNI IN 1 NESKLENJENO KRIVO ČRTO
 (C) 1 SKLENJENO IN 1 NESKLENEJNO KRIVO ČRTO
 (D) 2 SKLENJENI KRIVI ČRTI
 (E) 1 RAVNO IN 1 SKLENJENO KRIVO ČRTO

6. DO KOLIKO KORENČKOV LAHKO PRIDE ZAJEC?



- (A) 5 (B) 6 (C) 7 (D) 11 (E) 12

7. UČENCI PRVEGA RAZREDA SO RAZISKALI, S KATERIM ŠPORTOM SE NAJRAJE UKVARJAJO. VSAK UČENEC JE IZBRAL 1 ŠPORT. REZULTATE SO PRIKAZALI Z VRSTICAMI.



KOLIKO UČENCEV JE SODELOVALO V RAZISKAVI?

- (A) 6 (B) 13 (C) 17 (D) 22 (E) 23